

ВСЕРОССИЙСКАЯ ОЛИМПИАДА ШКОЛЬНИКОВ

ПО ИСТОРИИ. 2017–2018 УЧЕБНЫЙ ГОД. ШКОЛЬНЫЙ ЭТАП. 8 КЛАСС.

Время на выполнение работы 60 минут.

(Максимальное количество баллов – 87)

И 364

1. Укажите лишнее имя в ряду, свой выбор поясните.

1. а) В. Шуйский, б) Г. Ортегас, в) Б. Годунов, д) М. Скуратов.
2. а) С. Разин, б) А. Меншиков, в) Е. Пугачев, г) И. Боготников.

4 балла
список (остальные не подходят)
а, б, г - предводители восстания

2. Определите, по какому принципу образованы ряды и запишите свой ответ. Завершите ряд

1. 1497 г., 1530 г., 1613 г. даты приезда влиятельных государей
2. а) Тубной староста, воевода, губернатор. должности в разное время

3. Историк должен грамотно писать исторические понятия и термины. Выпишите правильно

- 1) пр. Ол. Азия
2) к Ол. Азия
3) ас. Ол. Азия
4) б. а. рон. О. Азия
5) с. к. а. р. Азия

4. Перед вами перечень исторических источников и литературных памятников разных исторических периодов. Определите, какие из них относятся к XVI в., XVII в., XVIII в.

1. Житие протопопа Аввакума
2. «Четырех-Миней»
3. «Апостол»
4. «Недоросль»
5. «Путешествие из Петербурга в Москву»
6. Газета «Ведомости»
7. Первый букварь В. Бурцева
8. «Домострой»
9. Журнал «Всякая всячина»
10. «Сказание» Абраамия Палицына

В бланке ответов начертите такую таблицу и выпишите порядковые номера событий в соответствующую колонку таблицы

XVI в.	XVII в.	XVIII в.
2, 3, 8	1, 7, 10	4, 5, 6, 9

5. Если вы согласны с утверждением, напишите «да», если не согласны – «нет», и исправьте ошибку.

1. Во время первого азовского похода Петра (1695 г.) турки нанесли разгромный русский флот. не было флота
2. Захватив с 1702 по 1704 г. Нотебург, Ниеншанц, Ям, Корголь, Нарву и Дерпт, Пётр предлагал Карлу XII мир, но тот отказался.

3. Петербург, основанный в 1703 г., стал столицей уже через 10 лет.

4. Под Полтавой в 1709 г. армия Карла XII была разгромлена союзными войсками России, Дании и Саксонии. Дания и Саксония не участвовали

5. С 1721 г., когда Пётр становится императором, исполнительная и судебная власть принадлежит Сенату, а законодательная – самому императору. все 3 власти принадлежат императору

6. В городах при Пётре были созданы мануфактуры, членами которых избирался из купцов пожизненно

6. Решите исторические задачи.

10 баллов

а) В 1072 г. в Киеве торговцы обвинили одного из приезжих крестьян в краже принадлежавшей ему вещи. На суде крестьянин показал, что купил эту вещь в соседней волости... и тут же был приговорен к казни. Почему ему никто не поверил?
Киевская в греческом Восток неизвестности

б) Византийский император к эвфемизмам около 948 г. писал: «Когда наступит ноябрь месяц, князья их точчас выхоят со всеми русами и отправляются в крутой обезд именно в славянские земли, возвращаются в Киев. Затем забирают свои корабли... снаряжаются и отправляются в Византию». Кто эти князья, и какое явление описал византийский император?
Киевские князья, инославие

7. Из приведенных слов составьте определения исторических понятий. Назовите эти понятия. Слова и словосочетания не могут использоваться дважды. В этот лингвистический конструктор вы можете добавлять предлоги, изменяя слова по падежам (они даны в именительном падеже) и пр.

1. сбор, помещик, крестьянин, деньги, продукт, крепостной, ежегодный, и прочее
2. устраиваемый, съезжается, закупка, торг, место, определенный, ретулярный, который, товар, продажа

8. Журналист, пишущий на исторические темы, попытался расказать о деятельности Ивана III. Так получилось, что Ивану III он приписал некоторые качества и поступки двух других глав русского государства — Ивана IV и Бориса Годунова.

В статье 10 предложений. Они пронумерованы. Разделите их на три группы. Начертите в бланке ответов такую таблицу и выпишите номера предложений в соответствующие колонки.

Иван III	Иван IV	Борис Годунов
2, 9, 4, 5	8, 1, 3, 11	4, 6, 10

1. Он появился на свет, когда это отцу было уже за пятьдесят, поэтому был ребенком очень желанным, и его рождения ожидала вся страна.

2. Он участвовал от отца, Василия Темного, освоенного в молодости соперниками, большое Московское княжество, территория которого составляла 400 тысяч квадратных километров.

3. На семнадцатом году жизни он объявил митрополиту Макарию, что хочет жениться, и также он выступил с речью о том, что хочет принять титул царя.

4. Избрание его царем произошло на Земском соборе, так он стал первым избранным царем в истории русского государства.

5. Двор царский уподобился византийскому, поскольку он был затем одного из Палеологов и хотел восстановить у нас Греческо с соблагоуствием всех обрядов ее церковных и придворных, окружил себя римскими органами и принимал иностранных послов в Золотой палате, которая напоминала Юстинианову.

6. В период его правления разразился страшный голод из-за неблагоприятных погодных условий в течение двух лет подряд.

7. В Московском Кремле в период его правления знаменитые итальянские архитекторы построили величественные церкви и Грановитую палату.

8. Во время одного из своих приступов он случайно убил своего сына, потав посохом с железным наконечником ему в висок.

9. Он пробыл на великокняжеском престоле 43 года. Своему наследнику он оставил огромную державу, се площадь за время его правления выросла в пять раз и превышала 2 миллиона квадратных километров.
10. Периоду его правления посвящены известная поэма А.С. Пушкина и одноименная опера М.П. Мусоргского.

9. Расположите события эпохи Дворцовых переворотов в их хронологической последовательности. 5 баллов.

- А. Основание Московского университета
- Б. Создание Верховного тайного совета
- В. Принятие «кондиций»
- Г. Взятие русскими войсками Берлина
- Д. Сражение при Гросс-Егерсдорфе
- Е. Арест Меншикова

Правильно: Б, Е, В, А, Г, Д

10. Проанализируйте фрагмент исторического документа и ответьте на вопросы. 10 баллов

«Московский патриарх созвал Собор... относительно нововведений и разных погрешностей в делах веры: во-первых, относительно того, что они не служат, как мы, на антиимнее с изображениями и с надписями, освещенными мошами святых, а не в куске белого полотна, во-вторых, что они, принося священную жертву, вынимают не девять чинов, а только четыре: в-третьих, что они делают в некоторых словах ошибки в «Верую во единого Бога»; в-четвертых, что они делают к иконам только раз или два в году; в-пятых, не принимают антидора; в-шестых, прикладываются к иконам только раз или два в году; в-пятых, не принимают антидора; в-шестых, касательно их крестного знамения при ином расположении пальцев... Патриарх... перевел служебник литургии с греческого языка на русский, изложил в нем обряды в ясных выражениях... исправил многие ошибки, по царскому утверждению и повелению, но на основании свидетельств закона и пророков. Патриарх... сказал: «Я русский, сын русского, но мои убеждения и моя вера греческая». Некоторые из архиереев ответили повинованием, а некоторые из них... внутренне возмущались».

1. К какому времени относится данный документ (укажите век)? XVII

2. О каком событии идет речь? Реформа Никона

3. Что имел в виду автор, говоря о том, что «некоторые из них внутренне возмущались»? Б глупые души возмущались

4. Используя Ваши знания по истории России, укажите, к каким последствиям привело это событие. Раскол русской церкви, появление старообрядцев, раскол старообрядцев на старообрядцев и старообрядцев

11. По описанию узнайте картину, назовите её автора. 2 балла

«Суровый и величественный горный пейзаж. Уходящие ввысь скалы окутаны седыми облаками. По ледяным скалам, подобно лавине, низвергаются в пропасть чудо-богатыри. Их предводитель на коне на краю обрыва шуткой и острым словом подбадривает воинов».

Врубель "Песнь Суворова через Альпы"

12. Столица Сибирского ханства в XVI в.

- А) Обской городок
- Б) Кашлык
- В) Тобольск
- Г) Казань

13. Вставьте пропущенное имя: ...Мы голову Кучуру отсечем!

Сказал Ермак - Сибирь на меч подымлю!

Он вынул меч. И боевым мечом Ударил в землю и разрыхлил землю...

Леонид Мартынов.


14. Определите по изображению историческую личность (главу русского государства определенного периода) и назовите ее. Укажите век, в котором правил этот человек. 12 баллов

Б-Олег

В-Борис Годунов



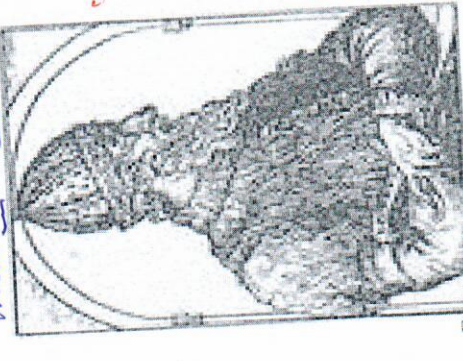
Владимир X-XI вв



В



Иван III XVI в



Б

N 1

Экз 87

14364

~~Экз 87~~

957

1) мелкие - орнамент (остатки - мелкий
геометрический рисунок)

2) δ-мелкие - α), β), γ) - и более крупные
или

N 2

1) 1497, 1530, 1619, 1833 - жирный рисунок
мелкий

2) мелкий, мелкий мелкий, мелкий, мелкий, мелкий, мелкий
густота в мелкий мелкий

N 3

1) мелкий мелкий

2) мелкий мелкий

3) мелкий мелкий

4) мелкий мелкий

5) мелкий мелкий

N 4

XVI	XVII	XVIII
2, 3, 8	1, 7, 10	4, 5, 6, 9

957

10

N9

Ответ: Б, Е, В, А, Д, Г, **Б**

N10

1 XVIII в

2 Реформа Николая

3 Возмущения в туземные души.

и Раскол русской церкви, появление старообрядцев.

Преследование старообрядцев

Усиление власти государя, в противовес церкви

N11

Суриков "Переход Суворова через Альпы"

N12

Б

N13

Ерпак

N14

А) Рюрик IX в

Б) Олег X в

В) Владимир X-XI вв

Г) Иван III XIV в

Тогда не было орюта

Ханы и хаканы не уваживали

все 3 (исполнительная, судебная, законодательная)

применениями императору **Г**

Червоная **Н/В**
Янка в другой валюте невозможна!

изские князья. Попытка

е - ежегодный сбор пашенниками с крепостных

иен - деньги и продукты.

ария - регулярный торг, устраиваемый в определен-

месте, на который съезжались для продажи или

ли товара

Борис Годунов

Иван III Иван IV

9, 7, 5 8, 3, 1 4, 6, 10

Миссионерство.

9. Расположите события эпохи Дворцовых переворотов в их хронологической последовательности. 5 баллов.

- А. Основание Московского университета
Б. Создание Верховного тайного совета
В. Принятие «кондиций»
Г. Взятие русскими войсками Берлина
Д. Сражение при Гросс-Егерсдорфе
Е. Арест Меншикова

БЕВАДГ

15

10. Проанализируйте фрагмент исторического документа и ответьте на вопросы. 10 баллов

«Московский патриарх созвал Собор... относительно нововведений и разных погрешностей в делах веры: во-первых, относительно того, что они не служат, как мы, на антиминсе с изображениями и с надписями, освещенными мощами святых, а не в куске белого полотна, во-вторых, что они, принося священную жертву, вынимают не девять чинов, а только четыре; в-третьих, что они делают в некоторых словах ошибки в «Верую во единого Бога»; в-четвертых, прикладываются к иконам только раз или два в году; в-пятых, не принимают антидора; в-шестых, касательно их крестного знамения при ином расположении пальцев... Патриарх... перевел служебник литургии с греческого языка на русский, изложил в нем обряды в ясных выражениях... исправил многие ошибки, по царскому утверждению и повелению, на основании свидетельств закона и пророков. Патриарх... сказал: «Я русский, сын русского, но мои убеждения и моя вера греческая». Некоторые из архиереев ответили повиновением, а некоторые из них... внутренне возроптали».

1. К какому времени относится данный документ (укажите век)? XVII в.
2. О каком событии идет речь? Реформа патриарха Никона
3. Что имел в виду автор, говоря о том, что «некоторые из них внутренне возроптали»? Речь о церковной расколе
4. Используя Ваши знания по истории России, укажите, к каким последствиям привело это событие? 2 балла
1. Преследование старообрядцев
2. Переход Сибирского царства

11. По описанию узнайте картину, назовите её автора. 2 балла
«Суровый и величественный горный пейзаж. Уходящие ввысь скалы окутаны седыми облаками. По ледяным скатам, подобно лавине, низвергаются в пропасть чудо-богатыри. Их предводитель на коне на краю обрыва шуткой и острым словом подбадривает воинов».

12. Столица Сибирского ханства в XVI в.

- А) Обской городок
Б) Кашлык
В) Тобольск
Г) Казань

13. Вставьте пропущенное имя:

...Мы голову Кучуку отсечем!
Сказал Ермак — Сибирь на меч подьемлю!
Он вынул меч. И боевым мечом
Ударил в землю и разрыхлил землю...

Леонид Мартынов.

14. Определите по изображению историческую личность (главу русского государства определенного периода) и назовите ее. Укажите век, в котором правил этот человек. 12 баллов

- А. Рюрик, IX в.
Б. Ярослав Мудрый, X-XI в.
В. Владимир Мономах, XII в.
Г. Александр Невский, XIII-XIV в.

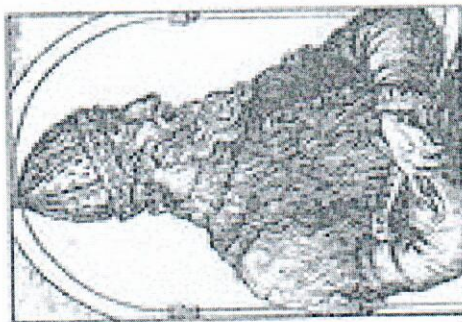
12




Б



А



Г



В

ВСЕРОССИЙСКАЯ ОЛИМПИАДА ШКОЛЬНИКОВ
ПО ИСТОРИИ. 2017-2018 УЧЕБНЫЙ ГОД. ШКОЛЬНЫЙ ЭТАП. 8 КЛАСС.

Время на выполнение работы 60 минут.
 (Максимальное количество баллов – 87)

1. Укажите лишнее имя в ряду, свой выбор поясните. 4 балла
 1 а) В. Шумский, б) Г. Огеньев, в) Б. Годунов, г) М. Скуратов.
 2 а) С. Разин, б) А. Меньшиков, в) Е. Пугачев, г) И. Болотников.

2. Определите, по какому принципу образованы ряды и запишите свой ответ. Завершите ряд или заполните пробел в нём. 4 балла
 1. 1497 г., 1530 г., 1833 г.
 2. ... гоубной староста, воевода, губернатор
 3. История, должен, грамотно, писать, исторические, понятия и термины. Впишите правильно букву или буквы вместо пропусков (там, где это необходимо). 5 баллов.

- 1) про... тек... о... о... о...
 2) к... л... д... е...
 3) д... с... а... м... б... е...
 4) б... р... о... н... в... и...
 5) с... е... к... л... а... р... ч... з... а... щ... а...

4. Перечислите, по какому принципу составлены исторические источники и литературные памятники разных исторических периодов. Определите, какие из них относятся к XVI в., XVII в., XVIII в. 10 баллов.

- Житие протопопа Авакума
- «Четьи-Минени»
- «Апостол»
- «Недоросль»
- «Путешествие из Петербурга в Москву»
- Газета «Ведомости»
- Первый букварь В. Бурцева
- «Домострой»
- Журнал «Всякая всячина»
- «Сказание» Авраамия Палишина

В бланке ответов начертите такую таблицу и впишите порядковые номера событий в соответствующую колонку таблицы

XVI в.	XVII в.	XVIII в.
236	1710	45, 6, 9, 11

5. Если вы согласны с утверждением, напишите «да», если не согласны – «нет», и исправьте ошибку. 9 баллов

- Во время первого азовского похода Петра (1695 г.) турки нанесли разгромный русский флот. —
 - Захватив с 1702 по 1704 г. Ноттебург, Ниеншанц, Ям, Копорье, Нарву и Дерпт, Петр предлагал Карлу XII мир, но тот отказался.
 - Петербург, основанный в 1703 г., стал столицей уже через 10 лет.
 - Под Полтавой в 1709 г. армия Карла XII была разгромлена союзными войсками России, Дании и Саксонии.
 - С 1721 г., когда Петр становится императором, исполнительная и судебная власть принадлежит Сенату, законодательная — самому императору.
 - В городах при Петре были созданы мануфактуры, члены которых избирались из купцов пожизненно.
6. Решите исторические задачи. 10 баллов

- а) В 1072 г. в Киеве торговец обвинил одного из приезжих крестьян в краже принадлежавшей ему вещи. На суде крестьянин показал, что купил эту вещь в соседней волости... и тут же был приговорен к наказанию. Почему ему никто не поверил? *вспомните в древней летописи слова, IX-X*

- б) Византийский император Константин около 948 г. писал: «Когда наступит ноябрь месяц, князья их тотчас выводят со всеми русами и отправляются в крутовую объезд именно в славянские земли. Прокармливая там в течение целой зимы, они в апреле месяце, когда растает лед на Днепре, снова возвращаются в Киев. Затем забирают свои корабли... снаряжаются и отправляются в Византию». Кто эти князья, и какое явление описал византийский император? *вспомните князей, XI-XII*

7. Из приведенных слов составьте определения исторических понятий. Назовите эти понятия. Слова и словосочетания не могут использоваться дважды. В этот лингвистический конструктор вы можете добавлять предлоги, изменять слова по падежам (они даны в именительном падеже) и пр. 4 балла
 1. сбор, помещик, крестьянин, деньги, продукт, крепостной, ежегодный
 2. устраивать... сад, закупка, торг, место, определенный, регулярный, который, тоном

8. Журналист, пишущий на исторические темы, попытался рассказать о деятельности Ивана III. Так получилось, что Ивану III он приписал некоторые качества и поступки двух других глав русского государства — Ивана IV и Бориса Годунова.

В статье 10 предположений. Они пронумерованы. Разделите их на три группы. Начертите в бланке ответов такую таблицу и впишите номера предположений в соответствующие колонки. 10 баллов

Иван III	Иван IV	Борис Годунов
3, 9, 12	8, 10	4, 6, 7, 11

1. Он появился на свет, когда его отцу было уже за пятьдесят, поэтому был ребенком очень желанным, и его рождение ожидала вся страна.

2. Он унаследовал от отца, Василия Темного, ослепленного в молодости соперниками, большое Московское княжество, территория которого составляла 400 тысяч квадратных километров.

3. На сенационном толку жизни он объявил митрополиту Макарию, что хочет жениться, и также он выступил с речью о том, что хочет принять титул царя.

4. Избрание его царем произошло на Земском соборе, так он стал первым избранным царем в истории российского государства.

5. Двор царский устроился в византийскому, поскольку он был зятем одного из Палеологов и хотел восстановить у нас Гречию с соблюдением всех обычаев ее церковных и придворных. одержал себя римскими орлами и принимал иностранных послов в Золотой палате, которая напоминала Костинином.

6. В период его правления разразился страшный голод из-за неблагоприятных погодных условий в течение двух лет подряд.

7. В Московском Кремле в период его правления знаменитые итальянские архитекторы построили величественные церкви и Грановитую палату.

8. Во время одного из своих приступов он случайно убил своего сына, попал посохом с железным наконечником ему в висок.

9. Он пробыл на великокняжеском престоле 43 года. Своему наследнику он оставил огромную лежав, ее поощлял за время его правления выросла в пять раз и превратила 2 миллиона квадратных километров.

10. Перелом его правления посвящен известная поэма А.С. Пушкина и одноименная опера М.П. Мусоргского.

Иван III - великий князь московский, объединитель русских земель, реформатор, создатель единого государства, вступление в брак с Софией Палеолог.

9. Расположите события эпохи Дворцовых переворотов в их хронологической последовательности. 5 баллов.

- А. Основание Московского университета
Б. Создание Верховного тайного совета
В. Принятие «кондиций»
Г. Взятие русскими войсками Берлина
Д. Сражение при Гросс-Егерсдорфе
Е. Арест Меншикова

Б

АБВГДЕ

413652

10. Проанализируйте фрагмент исторического документа и ответьте на вопросы.

10 баллов

«Московский патриарх созвал Собор... относительно нововведений и разных погрешностей в делах веры: во-первых, относительно того, что они не служат, как мы, на антиминсе с изображениями и с налбиями, освященными мощами святых, а не в куске белого полотна; во-вторых, что они, принося священную жертву, вынимают не девять чинов, а только четыре; в-третьих, что они делают в некоторых словах ошибки в «Верую во единого Бога»; в-четвертых, что они прикладывают к иконам только раз или два в году; в-пятых, не принимают антидора; в-шестых, касательно их крестного знамения при ином расположении пальцев... Патриарх... перевел касательно литургии с греческого языка на русский, изложил в нем обряды в ясных выражениях... исправил многие ошибки, по царскому утверждению и повелению, на основании свидетельств закона и пророков. Патриарх... сказал: «Я русский, сын русского, но мои убеждения и моя вера греческая». Некоторые из архиереев ответили повинованием, а некоторые из них... внутренне возроптали».

1. К какому времени относится данный документ (укажите век)? XVIII в.
2. О каком событии идет речь? Реформа патриарха Кирилла.
3. Что имел в виду автор, говоря о том, что «некоторые из них внутренне возроптали»? Использование Ваших знаний по истории России, укажите, к каким последствиям привело это событие. раскол Русской церкви, посвящение старообрядцев.

2 балла

11. По описанию узнайте картину, назовите её автора.
«Суровый и величественный горный пейзаж. Уходящие ввысь скалы окутаны седыми облаками. По ледяным скалам, подобно лавине, низвергаются в пропасть чудо-богатыри. Их предводитель на коне на краю обрыва шуткой и острым словом подбадривает воинов».

Сурьва, Переход сурьрова через Аланд.

2

12. Столица Сибирского ханства в XVI в.

- А) Обской городок
Б) Кашлык
В) Тобольск
Г) Казань

13. Вставьте пропущенное имя:

...Мы голову Кучуму отсечем!
Сказал Ермак - Сибирь на меч подьемлю!
Он вынул меч. И боевым мечом
Ударил в землю и разрыхлил землю...

Леонид Мартынов.

14. Определите по изображению историческую личность (главу русского государства определенного периода) и назовите ее. Укажите век, в котором правил этот человек.

12 баллов

А. Юрий I X в.

Б. Святослав X в.

В. Владимир X-XI в.

Г. Илья III X-XI в.


В




Б



А



Г



В